




**ВОДА И ВАЗДУХ**  
**УЧЕНИК**

<p>1.</p>	<p>Вода се може јавити у три стања. Погледај слику и напиши која су то стања!</p> <div style="text-align: center;">  </div> <p>_____ , _____ , _____</p>	<p>___/3</p>																
<p>2.</p>	<p>Поред тачне тврдње напиши ДА, а поред нетачне НЕ!</p> <table style="width: 100%; border: none;"> <tr> <td style="width: 50%;">Вода у природи стално кружи.</td> <td style="width: 10%; text-align: center;">ДА</td> <td style="width: 10%; text-align: center;">НЕ</td> <td style="width: 30%;"></td> </tr> <tr> <td>Без воде има живота.</td> <td style="text-align: center;">ДА</td> <td style="text-align: center;">НЕ</td> <td></td> </tr> <tr> <td>Облаци настају од водене паре.</td> <td style="text-align: center;">ДА</td> <td style="text-align: center;">НЕ</td> <td></td> </tr> <tr> <td>Лед настаје када се вода загрева.</td> <td style="text-align: center;">ДА</td> <td style="text-align: center;">НЕ</td> <td></td> </tr> </table>	Вода у природи стално кружи.	ДА	НЕ		Без воде има живота.	ДА	НЕ		Облаци настају од водене паре.	ДА	НЕ		Лед настаје када се вода загрева.	ДА	НЕ		<p>___/4</p>
Вода у природи стално кружи.	ДА	НЕ																
Без воде има живота.	ДА	НЕ																
Облаци настају од водене паре.	ДА	НЕ																
Лед настаје када се вода загрева.	ДА	НЕ																
<p>3.</p>	<p>Заокружи слике онога што се раствара у води.</p> <div style="text-align: center;">  </div>	<p>___/3</p>																
<p>4.</p>	<p>Истраживач је извео оглед. Једну чашу је напунио хладном водом, а другу врућом водом. У обе чаше је ставио по кашичицу шећера и кратко их је промешао. Шећер у једној чаши потпуно се растворио, а у другој је мало шећера остало на дну чаше.</p> <p>Шта је истраживач желео да покаже овим огледом. Заокружи слово испред тачног одговора.</p> <p>А) Вода је провидна.          Б) Шећер се раствара у води.          В) На брзину растварања утиче температура течности.          Г) На брзину растварања утиче уситњеност материјала.</p>	<p>___/4</p>																
<p>5.</p>	<p>Упиши одговарајући број у празна поља.</p> <p>1. кондензована водена пара 2. испаравање</p> <div style="text-align: center;">  </div>	<p>___/2</p>																

