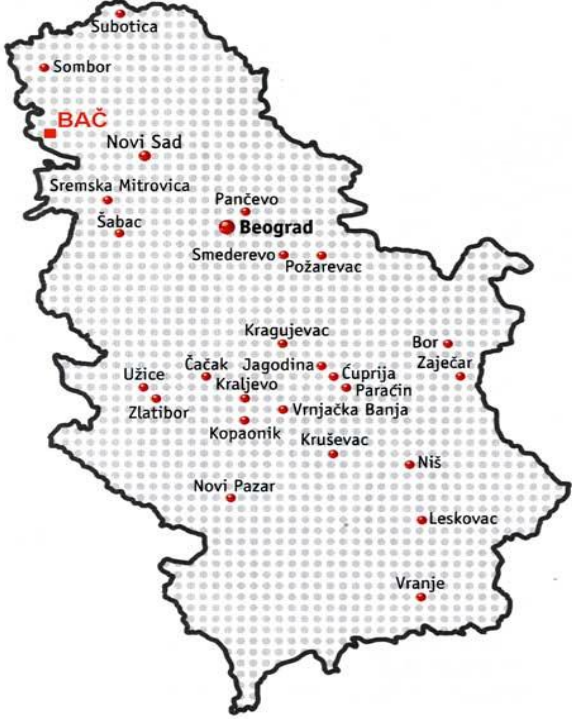




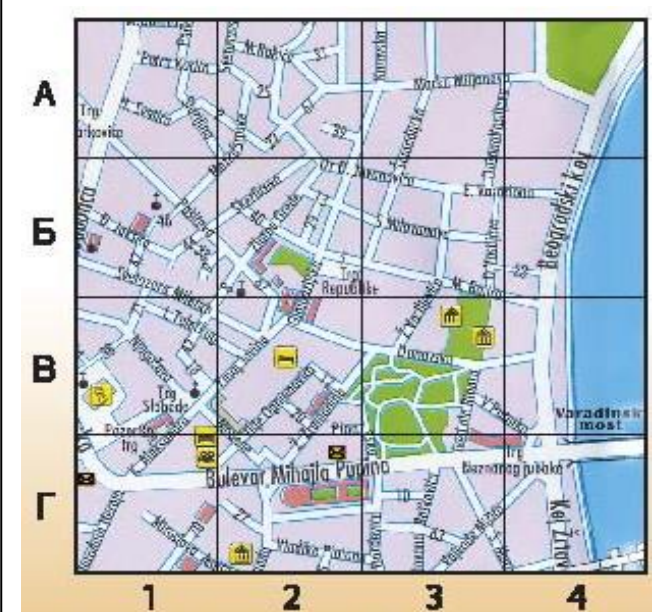


1.	План је: а) умањени приказ државе б) умањени приказ насеља ц) умањени предмет
2.	Заокружи ДА или НЕ . Географска карта је тачан и умањен приказ Земљине површине. ДА НЕ
3.	Чиме су на географској карти приказани: насеља, границе, фабрике, рудници, воде, планине, саобраћајнице и друго? _____
4.	Шта приказују боје на географској карти? Спој линијама. зелена боја • • узвишења браон боја • • воде плава боја • • равнице
5.	<div style="display: flex; align-items: center;">  <div style="margin-left: 20px;"> <p>а) На карти Републике Србије обележи свој завичај.</p> <p>б) Опиши свој завичај.</p> <p>_____</p> <p>_____</p> <p>_____</p> <p>_____</p> <p>в) На карти Републике Србије означи главне стране света.</p> <p>г) Ако са Копаника желиш да одеш у Нови Сад, на коју страну света ћеш поћи? _____</p> </div> </div>
6.	Поред сваког картографског знака напиши шта значи:  <input type="text"/>  <input type="text"/>  <input type="text"/>  <input type="text"/>
7.	Завичај је _____
8.	<div style="display: flex; align-items: center;">  <div style="margin-left: 20px;"> <p>Помоћу приказаног плана Новог Сада одговори на следећа питања:</p> <p>а) У којим квадратима је река Дунав? _____</p> <p>б) У којим квадратима је Булевар Михајла Пупина? _____</p> <p>_____</p> </div> </div>