






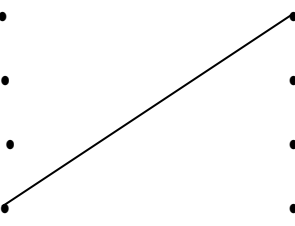


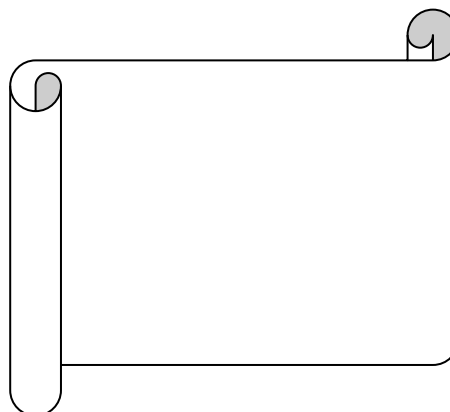
## ПРОВЕРА ЗНАЊА

1.	Снаћи се или оријентисати у простору, значи _____ _____.	____/2
2.	Наведи <b>главне</b> стране света. _____, _____, _____, _____.	____/4
3.	Испод датих слика упиши помоћу чега се људи <b>оријентишу</b> у простору.  а) _____  б) _____	____/2
4.	.Окренут си лицем према изласку Сунца- која је <b>страна света</b> испред тебе? <b>(обој сунце испред тачног одговора )</b>  исток  запад  север  југ	____/2
5.	<b>Допуни реченицу:</b> Сва узвишења, удубљења и равнице на Земљиној површини називамо _____.	____/1
6.	<b>Именуј</b> делове узвишења на слици: 	____/4
7.	Повежи линијама <b>облике рељефа</b> и њихове описе, као што је започето. <ul style="list-style-type: none"> <li>равница •</li> <li>котлина •</li> <li>планина •</li> <li>клинсура •</li> <li>брдо •</li> </ul> <ul style="list-style-type: none"> <li>узана, дубока речна долина</li> <li>равница између планина</li> <li>равно земљиште без узвишења</li> <li>највише узвишење</li> </ul> 	____/4

8.	Заокружи слово испред тачног одговора. Облици рељефа поређани од најнижег до највишег су : а) равница, планина, брдо б) брдо, равница, планина в) равница, брдо, планина	___/2
9.	Допуни реченицу: Место на коме се текућа вода улива у другу текућу воду или стајаћу воду назива се _____ .	___/1
10.	Допиши шта недостаје: <pre>         graph TD           A[ВОДЕ] --&gt; B[ ]           A --&gt; C[СТАЈАЋЕ]           B --&gt; D[ ]           B --&gt; E[ ]           C --&gt; F[ ]           C --&gt; G[МОРЕ]           C --&gt; H[ ]           E --&gt; I[ПЛАНИНСКЕ]           E --&gt; J[ ]           H --&gt; K[ПРИРОДНА]           H --&gt; L[ВЕШТАЧКА]           </pre>	___/6
11.	Наведи особине планинских и равничарских река. Планинске реке _____ Равничарске реке _____	___/2

број поена \_\_\_\_\_/30

оцена



Број поена

- 0– 11 оцена 1
- 12– 17 оцена 2
- 18 – 21 оцена 3
- 22 – 26 оцена 4
- 27 – 30 оцена 5